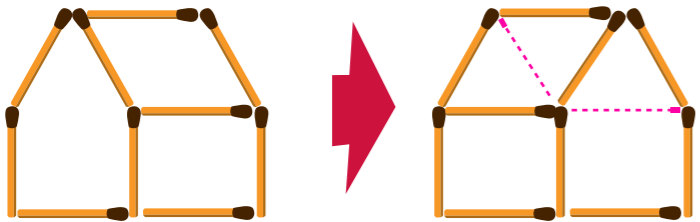


ԿԵՆԳՈՒՐՈՒ 2011

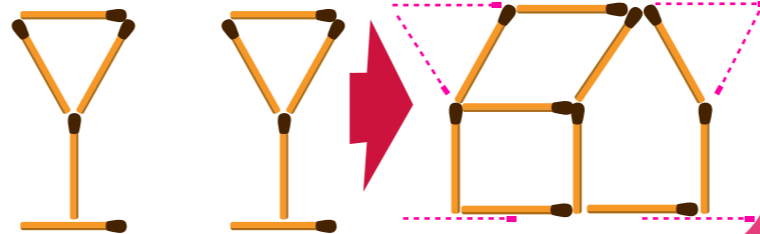
Մաթեմատիկական խաչքի համար

Գլուխկոտրուկների ճիշտ պատասխաններ՝

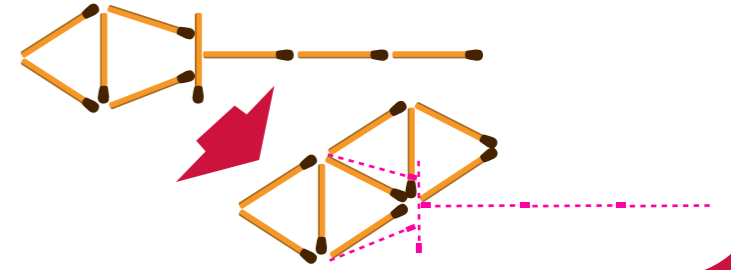
Տնակը նայում է ձախ: Տեղափոխիր լուցկու երկու հատիկ այնպես, որ տնակը նայի աջ:



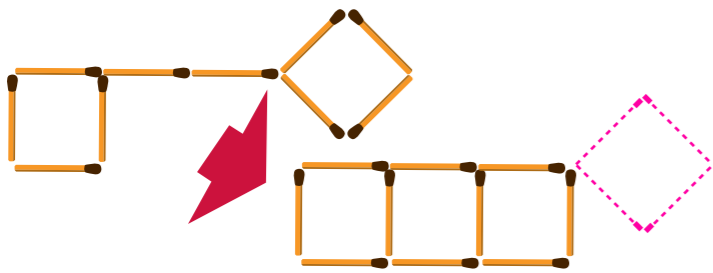
Տեղափոխիր լուցկու վեց հատիկ այնպես, որ երկու բաժակները դառնան տնակ:



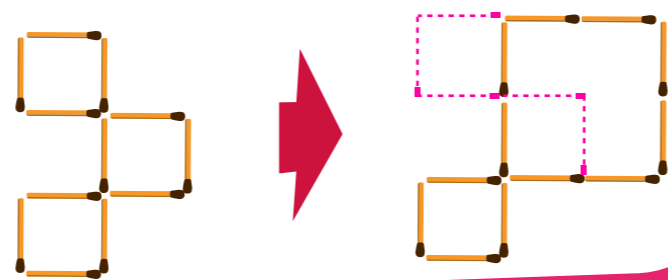
Տեղափոխիր լուցկու վեց հատիկ այնպես, որ լապտերը վերածվի չորս հավասար եռանկյունների:



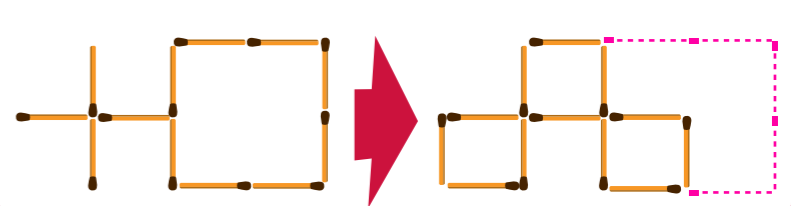
Տեղափոխիր լուցկու չորս հատիկ այնպես, որ բանալին վերածվի երեք քառակուսիների:



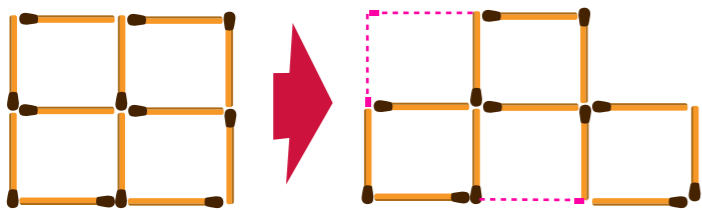
Տեղափոխիր լուցկու հինգ հատիկ այնպես, որ տրված պատկերից ստացվի ընդամենը երկու քառակուսի:




Տեղափոխիր լուցկու հինգ հատիկ այնպես, որ տրված պատկերից ստացվի երեք քառակուսի:



Տեղափոխիր լուցկու երեք հատիկ այնպես, որ տրված պատկերից ստացվի երեք հավասար քառակուսիներ:



Տեղափոխիր լուցկու չորս հատիկ այնպես, որ կացինը վերածվի երեք հավասար եռանկյունների:



Տեղափոխիր լուցկու երեք հատիկ այնպես, որ լապտերը վերածվի հինգ հավասար եռանկյունների:

